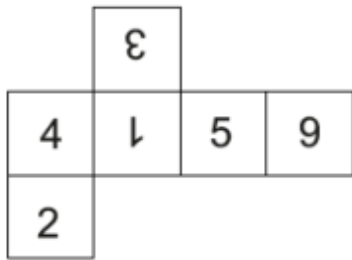


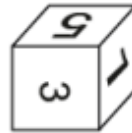
1. FUEGO es a CENIZA como ÉXITO es a _____.

- a) Fracaso
- b) Gloria
- c) Recuerdo
- d) Esfuerzo

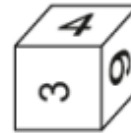
2.



A



B



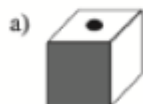
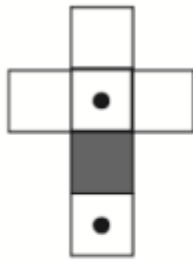
C



D

3.

Indique la que no se puede formar:



4. Señale la palabra que no pertenece al grupo:

- a) Empeño
- b) Pujanza
- c) Ahínco
- d) Dureza

5.

¿Cuántos símbolos iguales a este "O" se encuentra en la tabla de abajo?

O	C	C	O	C	C	C	O	O	O
C	O	C	O	O	O	C	C	O	C

a) 11

b) 10

c) 9

d) 12

1. El profesor que da MATEMÁTICAS no se llama MANUEL.
2. JOSÉ da clase al curso de 2º DE ESO, que no está en la PLANTA BAJA.
3. ANTONIO da clases en la PRIMERA PLANTA, pero no da la asignatura de LENGUA.
4. Los alumnos de QUINTO CURSO están en la TERCERA PLANTA.
5. ANDRÉS no imparte MATEMÁTICAS ni INGLÉS.
6. El profesor que da clases de HISTORIA está en la SEGUNDA PLANTA.
7. Los alumnos de la PLANTA BAJA no son de SEXTO CURSO ni de QUINTO.
8. Los alumnos de la TERCERA PLANTA tienen clase con ANDRÉS, pero no están en 1º DE ESO.

6. Quién da clase de matemáticas?

- a) Antonio
- b) Andrés
- c) José
- d) Manuel

7. ¿Quién da clase en sexto curso?

- a) Antonio
- b) Andrés
- c) José
- d) Manuel

8. ¿quién imparte clases en la planta baja?

- a) Antonio
- b) Andrés
- c) José
- d) Manuel

9. ¿En qué planta se dan las clases de historia?

- a) 1a

- b) 2a
- c) 3a
- d) planta baja

10.

¿Cuántos símbolos diferentes a este "Φ" encuentra en la tabla de abajo?

C	O	O	Φ	Φ	C	Φ	C	Φ	O
O	Φ	C	Φ	C	O	C	Φ	C	C
Φ	C	Φ	C	C	Φ	C	O	O	Φ




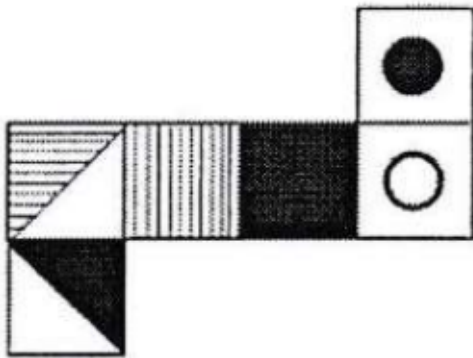
a) 17

b) 19

c) 15

d) 20

11.



12.

Si Diego es mayor que Lucía, siendo Chema igual que Diego y David mayor que Chema; entonces David es:

- a) menor que Chema
- b) menor que Lucía
- c) mayor que Diego
- d) igual que Chema

13.

Sinónimo de Orondo:

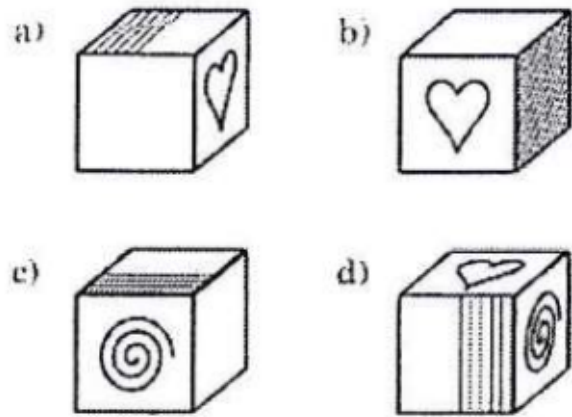
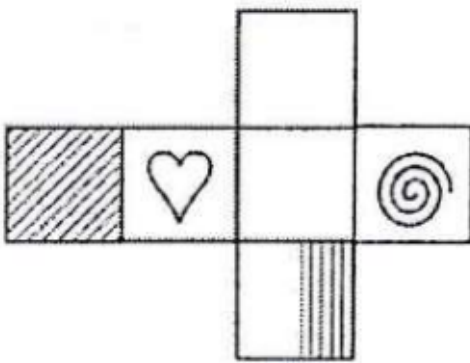
- a) Delgado
- b) Fuerte
- c) Grueso
- d) Ordenador

14.

... es a DISPUTAR como DURAR es a ...

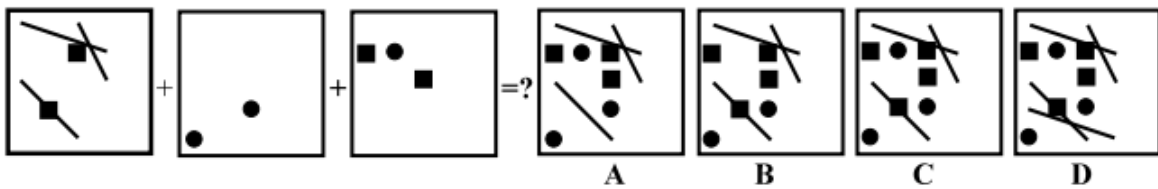
- A. discutir-invertir
- B. computar-procurar
- C. imputar-procurar
- D. imputar-permanecer
- E. discutir-permanecer

15.



e) ninguna

16.



17.

Indique la figura que encajaría completamente en la imagen modelo.

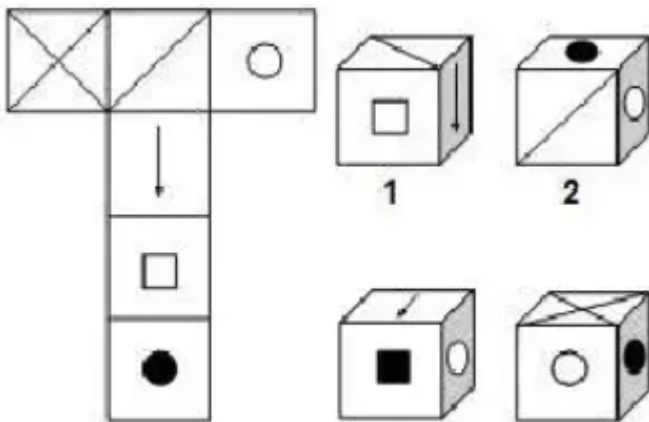


18.

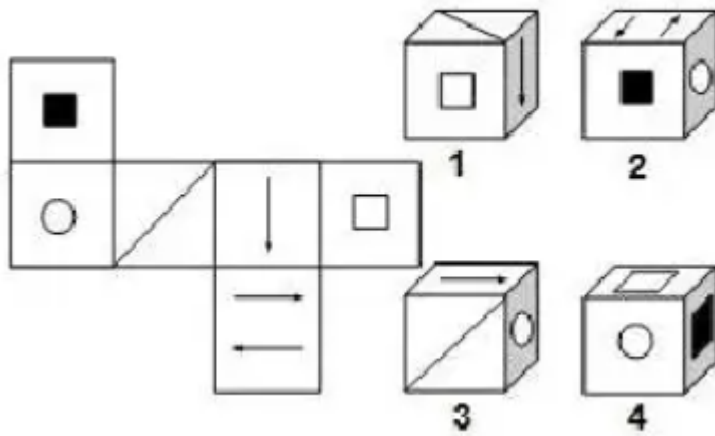
... es a SOL como SAL es a ...

a) Luz - Mar b) Luz - Sabor c) Calor - Mar d) Los - Las

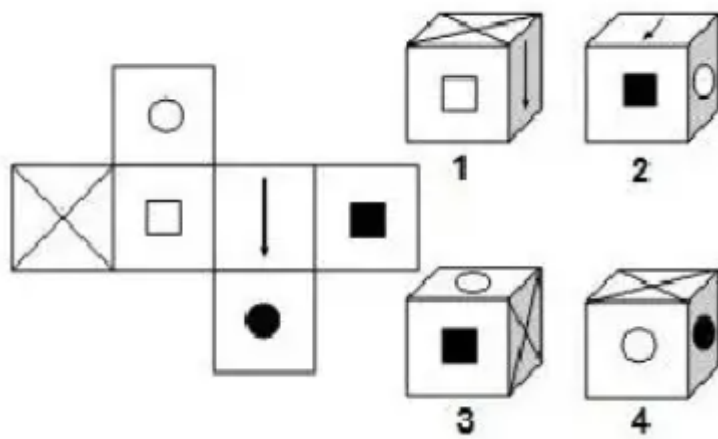
19.



20.



21.



22. Sinónimo de Alvino:

- a) Blanco
- b) Rubio
- c) Bajo vientre
- d) Oculto

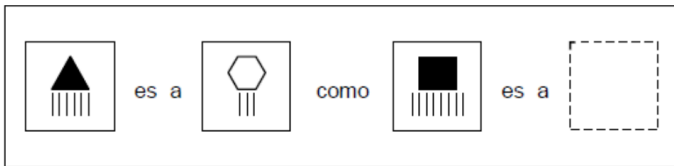
23.

Indique la figura que encajaría completamente en la imagen modelo.



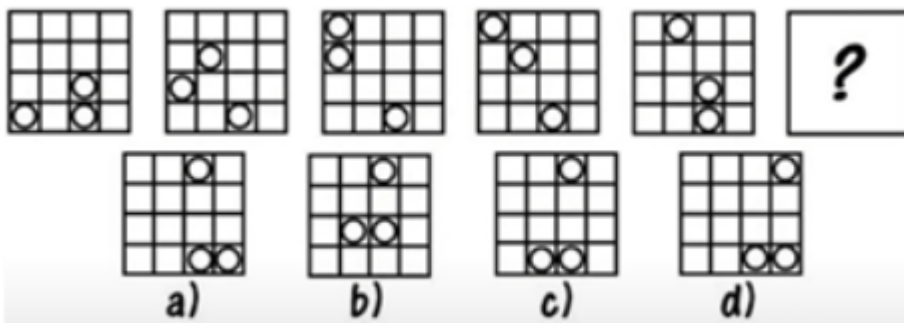
- a)
- b)
- c)
- d)

24.



- a)
- b)
- c)
- d)

25.



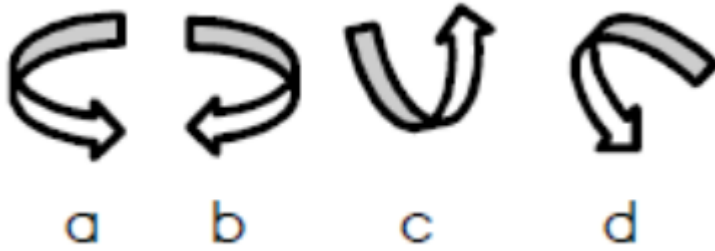
26.

Indique la alternativa que no guarda el orden alfabético:

- a) Debido - defendido - difundido - fundido
- b) Erguido – erigido – esculpido – evadido
- c) Balido - bandido - batido - debido
- d) Cedido - cocido - cosido - comido

27.

Indique la figura diferente:




28.




- a)
- b)
- c)
- d)

29 y 30:



- A. 78
- C. 80

- B. 79
- D. 81



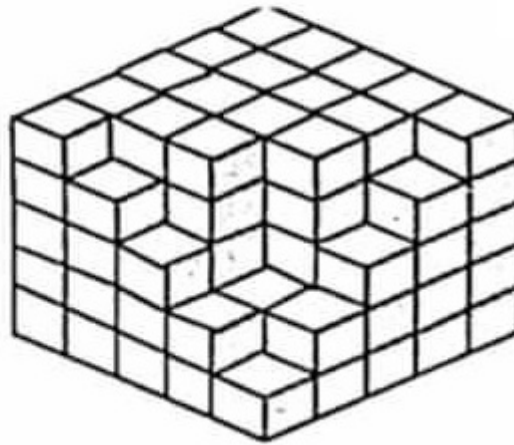
- A. 149
- C. 151

- B. 150
- D. 152

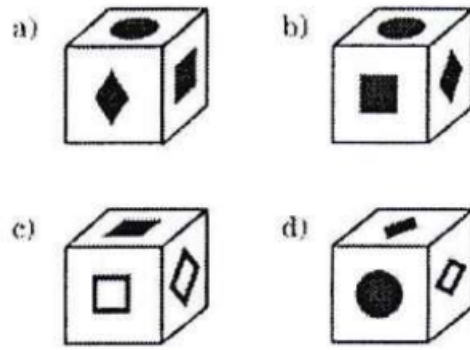
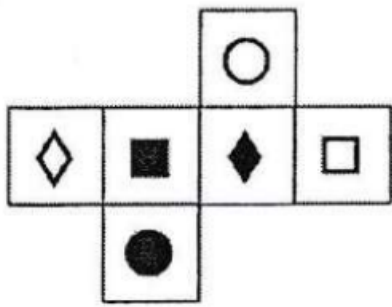
31.

¿Cuántos cubos faltan para formar un cubo compacto de 5 cubitos por lado?

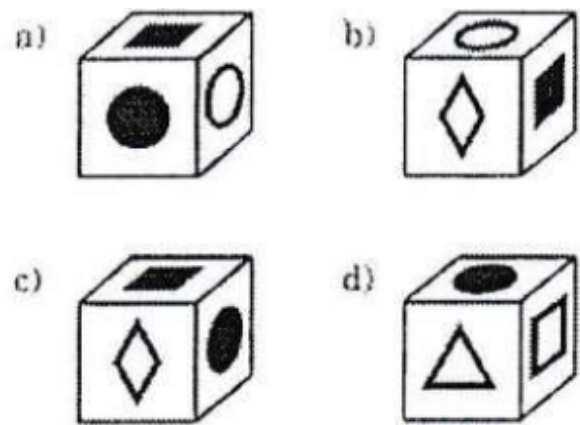
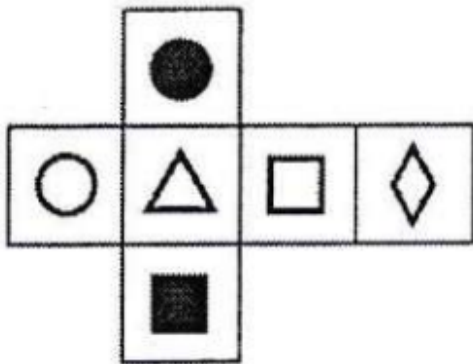
- A) 12
- B) 14
- C) 16
- D) 19
- E) 21



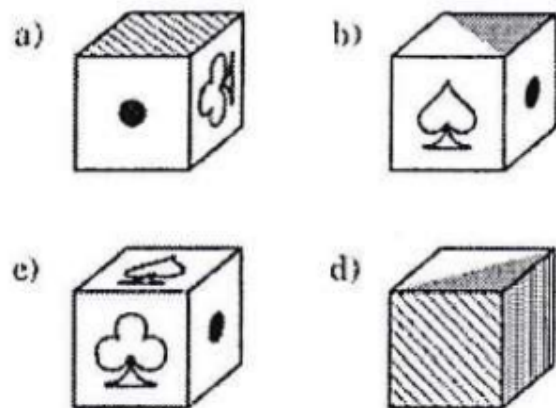
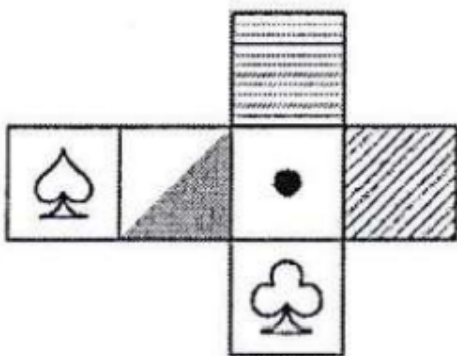
32.



33.



34.



35 y 36.

EXCAVAR es a **CAVIDAD** como **ALINEAR** es a **...?...**

A. SEGUIDO

B. RECTA

C. ACODO

D. ENSAMBLAR

HARINA es a **PAN** como **LECHE** es a **...?...**

A. VACA

B. TRIGO

C. YOGUR

D. AGUA

37.

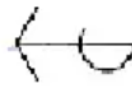
¿Qué figura es igual al modelo?



A



B



C



D



E

38.



a)



b)



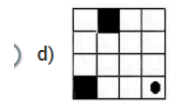
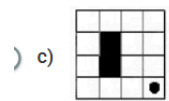
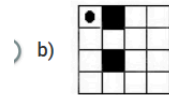
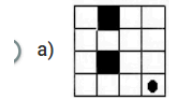
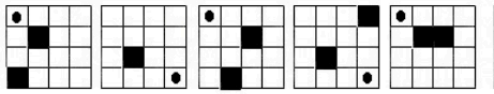
c)



d)



39.



40.

